

**Комплексная работа**

Фамилия, имя \_\_\_\_\_

класс 7 «\_\_\_\_\_», СОШ \_\_\_\_\_ г.(р-на) \_\_\_\_\_

**ВАРИАНТ № 1****Прочитай текст**

После распада единого государства Киевская Русь в 13-14 вв. Великое княжество Литовское завоевывает Полоцкое и Турово-Пинское княжества, а с 1569 г. эти земли входят в Речь Посполитую, и только с конца 18 в. они воссоединяются с Россией. В документах эти земли стали называть Белой Русью. Откуда появилось такое название? По одному предположению, так называли земли, избежавшие монголо-татарского ига, по-другому – «белой» величали землю, где раньше других утвердилось христианство. Некоторые ученые считают, что название связано с белой льняной одеждой, которую носили местные крестьяне.

Белоруссия – равнинная страна. Только с запада на восток и северо-восток проходит Белорусская гряда – нагромождения валунов, песка и глины, оставленные ледником. Юг страны занимает обширная Полесская низменность. Здесь более 700 озер и спокойных полноводных рек. Главная река Полесья – Припять. Река неширока, всего 3,5-4,5 м, но весной, в половодье, когда оттаивают замерзшие болота, она разливается в ширину до 15 км. Болота в Белоруссии занимают одну треть часть всей территории страны.

Белоруссия – страна лесов. На севере растут еловые и можжевеловые леса, а сосновые чаще всего встречаются в центре страны, на песчаных почвах. В лесах много лекарственных растений: шиповника, валерианы, тмина, наперстянки, ландыша, аира и других. На западе, на границе с Польшей, расположен заповедник Беловежская пуца. Гордость Беловежской пуцы – зубры. Эти животные были почти полностью истреблены, но люди смогли спасти их от вымирания и восстановить численность.

Белоруссия входит в Содружество Независимых государств и является ближайшим соседом РФ.

**1. Составь план текста. Для этого выдели основные смысловые фрагменты текста и озаглавь их.**

Ответ: \_\_\_\_\_

---



---



---



---



---



---

**2. Укажи, в каком значении употреблено в тексте слово ЦЕНТР в предложении: На севере растут еловые и можжевеловые леса, а сосновые чаще всего встречаются в центре страны, на песчаных почвах.**

- 1) Группа нервных клеток, регулирующих какую-нибудь функцию организма.
- 2) Город с административными, промышленными и другими учреждениями.
- 3) Точка в геометрической фигуре.
- 4) Срединная и главная часть чего-нибудь.
- 5) Высший орган руководства, управления какой-либо деятельностью.

Ответ: \_\_\_\_\_

---

**3. Из предложений:** *Река неширока, всего 3,5-4,5 м, но весной, в половодье, когда оттаивают замерзшие болота, она разливается в ширину до 15 км. Это страна лесов. На севере растут еловые и можжевеловые леса, а сосновые чащи всего встречаются в центре страны, на песчаных почвах – выпиши слово, в котором правописание приставки определяется правилом: «Если после приставки следует звонкий согласный, то на конце её пишется буква, обозначающая звонкий согласный звук».*

Ответ: \_\_\_\_\_

**4. Из предложений:** *Белоруссия — равнинная страна. Только с запада на восток и северо-восток проходит Белорусская гряда — нагромождения валунов, песка и глины, оставленные ледником. Юг страны занимает обширная Полеская низменность – выпиши слово правописание Н (НН) в котором подчиняется правилу: «В отымённых прилагательных, образованных от существительного с основой на Н с помощью суффикса Н пишется НН».*

Ответ: \_\_\_\_\_

**5. Выпиши грамматическую основу предложения:** *В Белоруссии в памяти старшего поколения еще сохранились многие языческие обряды и поверия.*

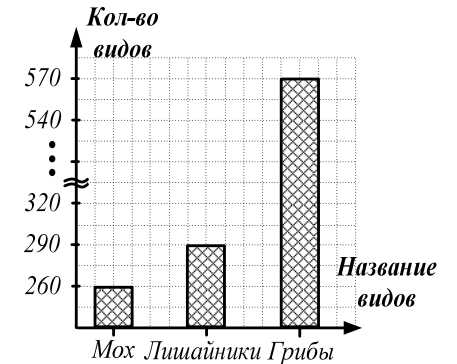
Ответ: \_\_\_\_\_

**6. Используя информацию из текста, вычисли, какую площадь (в км<sup>2</sup>) занимают в Белоруссии болота, если общая площадь страны равна 207 600 км<sup>2</sup>.**

Ответ: \_\_\_\_\_

**7.** На диаграмме представлена информация по некоторым видам растений Беловежской пущи и их численности. Используя диаграмму, найди, на сколько в заповеднике меньше видов лишайников, чем видов грибов?

Ответ: \_\_\_\_\_



**8.** Заповедник Беловежская пуща является уникальным и крупнейшим массивом древних лесов. Под лесом находится 86 % всей территории заповедника. Известно, что среди лесов Беловежской пущи сосновые леса составляют 60 %. Какую площадь (в га) занимают сосновые леса, если общая площадь Беловежской пущи равна 161000 га?

Ответ: \_\_\_\_\_

**9. Укажи, в каком из текстов содержится информация о Белорусской гряде:**

- 1) Протягивается вначале с северо-запада на юго-восток, а затем с юго-запада на северо-восток. Высота до 345 м. Почвы преимущественно супесчаные дерново-подзолистые. Земли распаханы, особенно южные склоны, как наиболее плодородные в Белоруссии.
- 2) Большая часть территории занята лесами и болотами. В почвенном покрове преобладают дерново-подзолистые, торфяно-болотные и луговые почвы. Крупнейшие реки - Днепр, Припять и Десна. Характерен высокий уровень грунтовых вод.
- 3) Рельеф равнинный. Снег удерживается 70-75 дней. Самые крупные реки - Нарев, Наревка, Рудавка, Гвозна, Лесная, Белая. Почвы преимущественно дерново-подзолистые. Климатические и почвенные условия благоприятствуют развитию пышной растительности (около 890 видов).

Ответ: \_\_\_\_\_

**10. Выбери из четырёх предложенных верные высказывания и запиши в таблицу цифры, под которыми они указаны:**

1. В северной и центральной части Белоруссии растут хвойные леса.
2. В лесах Белоруссии много лекарственных травянистых растений: шиповника, валерианы, тмина, наперстянки, ландыша.
3. Большая часть Белоруссии покрыта лесами.
4. Шиповник, валериана, тмин, наперстянка, ландыш, аир и другие лекарственные растения встречаются в белорусских лесах

Ответ: 

--	--	--

**11. Укажи, в каком веке земли Полоцкого и Турово-Пинского княжества стали называть Белой Русью?**

- XIV
- XVI
- XVII
- XVIII

**12. Как ты считаешь, почему важно сохранять заповедники?**  
Аргументируй свой ответ.

Ответ: \_\_\_\_\_

\_\_\_\_\_

\_\_\_\_\_

\_\_\_\_\_

\_\_\_\_\_

\_\_\_\_\_

**Комплексная работа**

Фамилия, имя \_\_\_\_\_

класс 7 «\_\_\_\_\_», СОШ \_\_\_\_\_ г.(р-на) \_\_\_\_\_

**ВАРИАНТ № 2****Прочитай текст**

В 5-6 вв. в Шотландию приходят кельтские племена скоттов. Они и дали название этой исторической области, ведь Шотландия – значит «страна скоттов». Шотландия – горная страна. С севера и северо-востока дуют холодные ветры, и температура опускается здесь до  $-18^{\circ}$  С. Среднегодовое количество осадков: 3000 мм на севере и 800 мм на юге.

Большая часть лесов Великобритании находится в Шотландии. Внизу, у подножия гор, растут дуб, сосна, ель, в горах – сосна и береза. В теплое время года в этих краях очень часты дожди, и поэтому здесь много заболоченных лугов, торфяных болот. Самое крупное животное, которое водится в этих местах, – благородный олень.

Когда-то горы Шотландии покрывал ледник. Двигаясь с запада на восток, он сгладил горы, прорезал глубокие долины и заполнил водой горные впадины. Так образовались самые большие озера острова – Лох-Несс и Лох-Ломонд. Они соединяются каналом, и от западного к восточному побережью Шотландии можно добраться по воде. Вы, наверное, слышали легенду о том, что в озере Лох-Несс живет одно из тех чудовищ, которые обитали на Земле в доисторические времена.

Горы, бурные реки, болота помогали шотландцам в течение многих веков отстаивать свою независимость. Все попытки Англии присоединить Шотландское королевство наталкивались на сопротивление народа. Лишь в 1707 г. Англия официально присоединяет Шотландию.

На севере Шотландии живут гэлы – потомки кельтов. Они сохранили свой язык – гэльский (ирландский) и национальный костюм. Мужчины надевают белую полотняную рубаху и клетчатую в крупную складку юбку до колен. Она называется *килт*. Каждый знатный шотландский род имеет свой определенный рисунок клетки. Поверх короткой суконной куртки на одно плечо накидывают плед.

Шотландцы гордятся своей историей, национальной культурой.

**1. Составь план текста. Для этого выдели основные смысловые фрагменты текста и озаглавь их.**

Ответ: \_\_\_\_\_

---

---

---

---

---

---

**2. Укажи, в каком значении употреблено в тексте слово ВОДА в предложении: Они соединяются каналом, и от западного к восточному побережью Шотландии можно добраться по воде.**

- 1) Прозрачная, бесцветная жидкость, которая в чистом виде представляет собою химическое соединение кислорода и водорода.
- 2) Целебные минеральные источники; курорт с минеральными источниками.
- 3) Напиток минеральный, газированный или фруктовый.
- 4) Водная поверхность.

Ответ: \_\_\_\_\_

**3. Из предложений: В 5-6 вв. в Шотландию приходят кельтские племена скоттов. Они и дали название этой исторической области, ведь Шотландия значит буквально «страна скоттов». Шотландия — горная страна – выпиши слово, в котором правописание приставки определяется значением «приближения».**

Ответ: \_\_\_\_\_

**4. Из предложений:** Мужчины надевают белую полотняную рубашу и клетчатую в крупную складку юбку до колен. Она называется килт. Каждый знатный шотландский род имеет свой определенный рисунок клетки – выпиши слово, правописание **Н (НН)** которого определяется правилом: «**В отымённых прилагательных, образованных с помощью суффиксов –АН-/-ЯН-, -ИН-, пишется одна Н**».

Ответ: \_\_\_\_\_

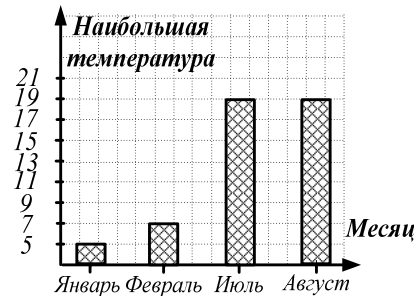
**5. Выпиши грамматическую основу предложения:** Двигаясь с запада на восток, он сгладил горы, прорезал глубокие долины и заполнил водой горные впадины.

Ответ: \_\_\_\_\_

**6.** Используя информацию из текста, вычисли, во сколько раз среднегодовое количество осадков на севере Шотландии больше, чем на юге.

Ответ: \_\_\_\_\_

**7.** На диаграмме представлена информация по наибольшей температуре (в °С), которая бывает в некоторые месяцы в Шотландии. Используя диаграмму, найди, на сколько температура в январе (в °С) меньше, чем в августе?



Ответ: \_\_\_\_\_

**8.** По переписи 2010 года население Шотландии насчитывало 5 000 000 человек, среди которых: шотландцы, англичане, ирландцы, поляки, пакистанцы, китайцы, индийцы и выходцы из Африки. Вычисли, сколько в Шотландии в 2010 году проживало англичан, если шотландцы составляли 88 % населения, а ирландцы, поляки, пакистанцы, китайцы, индийцы и выходцы из Африки все вместе составляли 5 %?

Ответ: \_\_\_\_\_

**9.** В каком из высказываний содержится информация о климате Шотландии. Запиши цифру с верным утверждением:

- 1) Климат умеренно-океанический, средняя годовая температура выше, чем в других местностях на той же широте, что связано с влиянием теплого течения Гольфстрим.
- 2) Климат в северной части - субарктический, на побережьях - умеренный морской с муссонным характером, во внутренних районах - континентальный.
- 3) Климат умеренно-континентальный, погода часто носит переменчивый характер, посреди лета может быть тепло и солнечно, но уже на следующий день – холодно и пойдет дождь.

Ответ: \_\_\_\_\_

**10. Выбери из четырёх предложенных верные высказывания и запиши в таблицу цифры, под которыми они указаны:**

1. В лесах Шотландии водится много крупных животных, в том числе, благородный олень.
2. В шотландских лесах есть хвойные и широколиственные деревья.
3. Шотландия – страна гор, бурных рек, болот и лесов.
4. Из-за обильных осадков в теплое время года в Шотландии много заболоченных мест.

Ответ: 

--	--	--

**11. В каком веке Шотландия была присоединена к Англии?**

XIV

XVI

XVII

XVIII

**12. Почему долгое время англичанам не удавалось присоединить Шотландию? Что, кроме, природных условий, по твоему мнению, мешало этому. Аргументируй свой ответ.**

Ответ: \_\_\_\_\_

\_\_\_\_\_

\_\_\_\_\_

\_\_\_\_\_

\_\_\_\_\_

\_\_\_\_\_

\_\_\_\_\_

**Комплексная работа**

Фамилия, имя \_\_\_\_\_

класс 7 «\_\_\_\_\_», СОШ \_\_\_\_\_ г.(р-на) \_\_\_\_\_

**ВАРИАНТ № 3****Прочитай текст**

Нидерланды – самое густонаселенное государство в Европе. Столица Нидерландов Амстердам возник как рыбацкий поселок в 1275 г. Центром поселка была плотина. Теперь на этом месте, на площади Дам, стоит королевский дворец. В старой части города много зданий 16-18 вв., в которых располагались гильдии и компании, госпитали и приюты. Эти дома построены из темно-красного камня, а рамы окон и все деревянные детали выкрашены белой краской. К парадному подъезду ведет высокая лестница с перилами. Фасады домов выходят на набережные каналов. Амстердам недаром называют северной Венецией: в городе 50 каналов и мостов.

Амстердам – крупный промышленный город, площадь которого 220 км<sup>2</sup>. Уже много веков славятся его гранильщики алмазов. Здесь находятся старейшие и крупнейшие в Европе банки. Из порта Амстердама, связанного каналами с Северным морем, суда уходят во все страны Европы. В городе Зандаме учился строить корабли Петр I. В домике, где он останавливался, теперь музей.

Правительство и парламент Нидерландов находятся не в столице страны, а в Гааге. До наших дней центр Гааги сохранил свой средневековый облик. Здесь находится дворец Мауриц-хейс, построенный еще в 17 в. В наши дни во дворце выставлены картины голландских художников Рембрандта, Вермера и других.

Интересен и старинный город Утрехт. В 1579 г. в Утрехте была подписана уния, по которой северные провинции объединились в одно государство, которое и стало ядром Нидерландов.

Город Алкмар известен на всю страну как центр производства сыра и масла. Здесь устраивают даже сырные ярмарки. Без сыра нидерландцы, пожалуй, не могут приготовить ни одного блюда: его добавляют в супы, салаты, запекают с мясом, рыбой, фруктами.

На юге страны, в провинции Лимбург построены машиностроительные, химические, цементные заводы.

**1. Составь план текста. Для этого выдели основные смысловые фрагменты текста и озаглавь их.**

Ответ: \_\_\_\_\_

---

---

---

---

---

---

---

---

**2. Укажи, в каком значении употреблено в тексте слово ЯДРО в предложении: В 1579 г. в Утрехте была подписана уния, по которой северные провинции объединились в одно государство, которое и стало ядром Нидерландов.**

- 1) Внутренняя часть плода в твердой оболочке.
- 2) Центральная, внутренняя часть чего-либо.
- 3) Часть клетки животного и растительного организма.
- 4) Старинный орудийный снаряд в виде шара.
- 5) Основная группа коллектива, определяющая и организующая его деятельность.

Ответ: \_\_\_\_\_

**3. Из предложений: Из порта Амстердама, связанного каналами с Северным морем, суда уходят во все страны Европы. В пригороде Зандама учился строить корабли Петр I. В домике, где он останавливался, теперь музей – выпиши слово, в котором правописание приставки определяется значением «пространственная близость».**

Ответ: \_\_\_\_\_

**4. Из предложений:** *Эти дома построены из темно-красного камня, а рамы окон и все деревянные детали выкрашены белой краской. К парадному подъезду ведет высокая лестница с перилами. Фасады домов выходят на набережные каналов. Амстердам недаром называют северной Венецией: в городе 50 каналов и мостов – выпиши слово, в котором правописание суффикса является исключением из правила.*

Ответ: \_\_\_\_\_

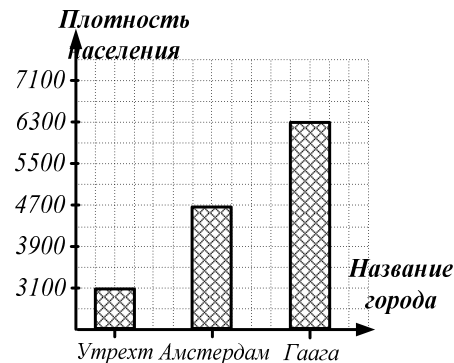
**5. Выпиши грамматическую основу предложения:** *Правительство и парламент Нидерландов находятся не в столице страны, а в Гааге.*

Ответ: \_\_\_\_\_

**6. Используя информацию из текста, вычисли площадь города Утрехта (в км<sup>2</sup>), если известно, что она в 2,2 раза меньше площади города Амстердама?**

Ответ: \_\_\_\_\_

**7. На диаграмме представлена информация по плотности населения в некоторых городах Нидерландов. Используя диаграмму, найди, на сколько плотность населения (в чел./км<sup>2</sup>) в Амстердаме меньше, чем в Гааге?**



Ответ: \_\_\_\_\_

**8. Известно, что в 2000 году трудоспособная часть населения Нидерландов составляла 7 200000 человек. Из них 73 % работали в сфере услуг, 23 % - в промышленности, остальные в сельском хозяйстве. Сколько человек в 2000 году в Нидерландах были заняты в сельском хозяйстве?**

Ответ: \_\_\_\_\_

**9. В каком тексте содержится информация об особенностях рельефа Нидерландов, определивших название страны? Запиши цифру с верным утверждением:**

- 1) На севере и на западе страны расположены равнинные территории и предгорья. Климат умеренно-морской, переходящий на востоке в умеренно-континентальный.
- 2) В центральной части страны к низменности с юга примыкают покрытые лесом предгорья, а южнее начинаются Альпы. На территории протекает большое количество рек.
- 3) Половина территории лежит ниже уровня моря. Береговая линия сформирована наносными дюнами, за ними идут некогда освоенные у моря земли, называемые польдерами и защищенные дюнами и дамбами от морских вод.

Ответ: \_\_\_\_\_

**10. Выбери из четырёх предложенных верные высказывания и запиши в таблицу цифры, под которыми они указаны:**

1. В Нидерландах развита пищевая промышленность, в том числе – производство знаменитого голландского сыра.
2. На юге Нидерландов действуют машиностроительные, химические, цементные предприятия перерабатывающей промышленности.
3. В Амстердаме уже много веков развивается добывающая и перерабатывающая алмазная отрасль промышленности.
4. Амстердам является крупным торговым портом, откуда суда уходят во все страны Европы.

Ответ: 

--	--	--



**11. В каком веке столица Нидерландов Амстердам возник как рыбацкий поселок?**

XII

XV

XIII

XVI

**12. Как ты думаешь, какими видами деятельности могли заниматься жители Нидерландов, судя по месту расположения данного государства в Европе и на основании информации в тексте? Аргументируй свой ответ.**

Ответ: \_\_\_\_\_

---

---

---

---

---

---

---

**Комплексная работа**

Фамилия, имя \_\_\_\_\_  
 класс 7 «\_\_\_\_\_», СОШ \_\_\_\_\_ г.(р-на) \_\_\_\_\_

**ВАРИАНТ № 4****Прочитай текст**

Еще М.В. Ломоносов говорил, что Россия будет «прирастать» (т.е. развиваться) Сибирью. Как же осваивались ее необъятные просторы?

В 1581 г. с Урала, с верховьев Камы отправился на восток отряд казаков во главе с Ермаком Тимофеевичем. Отряд дошел до нижнего течения Иртыша и разбил войска хана Кучума. Сам Ермак Тимофеевич в этом сражении погиб. Так началось присоединение Сибири. Весь 17 в. отряды русских землепроходцев шли и шли на восток, обычно по берегам крупных рек. Сибирь заселяли в основном жители Русского Севера, самостоятельные, предприимчивые и не знавшие крепостного права. В удобных местах они основывали небольшие крепости — остроги.

В районе реки Таз, населенном ненцами, царские воеводы «поставили» город Мангазею, через который в начале 17 в. в Восточную Сибирь хлынул поток промышленных людей, привлеченных сибирской пушшиной, в первую очередь соболем. В 17 в. в состав России входит Прибайкалье, Юг Западной Сибири, Алтай (площадь 93000 км<sup>2</sup>) и Саяны. Благодаря мягкому климату эти края показались русским «райской землицей», которая скоро стала житницей Сибири. По мере продвижения на восток налаживалась почтовая связь, назначались градоправители, собирались таможенные и другие налоги и ясак (дань пушшиной), строились города-крепости. Пошли на убыль войны между племенами, жившими в Сибири. В самом конце 17 в. к России была присоединена Камчатка (площадь 269700 км<sup>2</sup>).

Благодаря Сибирским землям территория русского государства к началу 18 в. увеличилась в три раза. В 1784 г. на полуострове Аляска в Северной Америке появляются русские поселения, основанные русским купцом Григорием Ивановичем Шелеховым. Но в 1867 г. Россия продает Соединенным Штатам свои права на владение Аляской. До наших дней в языке коренного населения Аляски — эскимосов, индейцев, алеутов — сохранились русские слова.

**1. Составь план текста. Для этого выдели основные смысловые фрагменты текста и озаглавь их.**

Ответ: \_\_\_\_\_

---



---



---



---

**2. Укажи, в каком значении употреблено в тексте слово МЯГКИЙ в предложении: Благодаря мягкому климату эти края показались русским «райской землицей», которая скоро стала житницей Сибири.**

- 1) Легко поддающийся давлению, сжатию, малоупругий, эластичный.
- 2) Кроткий, лишённый грубости, резкости.
- 3) Не очень строгий, снисходительный, не суровый.
- 4) Имеющий неопределенные, несколько расплывчатые черты, границы, контуры.
- 5) Умеренно-теплый, без резких изменений.

Ответ: \_\_\_\_\_

**3. Из предложений: В районе реки Таз, населенном ненцами, царские воеводы «поставили» город Мангазею, через который в начале 17 в. в Восточную Сибирь хлынул поток промышленных людей, привлеченных сибирской пушшиной, в первую очередь соболем. В 17 в. в состав России входит Прибайкалье, Юг Западной Сибири, Алтай и Саяны – выпиши слово, в котором правописание приставки определяется значением «пространственная близость».**

Ответ: \_\_\_\_\_

**4. Из предложений:** *Но в 1867 г. Россия продает Соединенным Штатам свои права на владение Аляской. До наших дней в языке коренного населения Аляски — эскимосов, индейцев, алеутов — сохранились русские слова – выпиши слово правописание Н (НН) в котором подчиняется правилу: «В отымённых прилагательных, образованных от существительного с основой на Н с помощью суффикса Н пишется НН».*

Ответ: \_\_\_\_\_

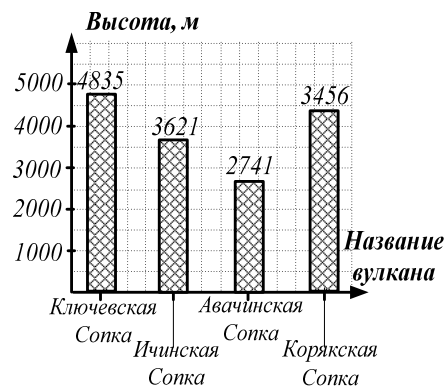
**5. Выпиши грамматическую основу предложения:** *Отряд дошел до нижнего течения Иртыша и разбил войска хана Кучума.*

Ответ: \_\_\_\_\_

**6.** Используя информацию из текста, вычисли во сколько раз площадь Камчатки больше площади Алтая?

Ответ: \_\_\_\_\_

**7.** На диаграмме представлена информация по высоте вершин некоторых вулканов Камчатки. Используя диаграмму, найди, сколько высота (в м) вершины Ичинской Сопки выше вершины Авачинской Сопки?



на

Ответ: \_\_\_\_\_

**8.** По переписи 2010 года население Алтая насчитывало 206000 человек. Известно, что алтайцы составляли 34 % от всего населения, а теленгиты составляли 5 % от алтайцев. Вычисли, сколько в 2010 году в Алтае проживало теленгитов?

Ответ: \_\_\_\_\_

**9. Из перечня географических объектов выбери те, которые названы в честь Витуса Беринга, офицера русского флота и мореплавателя.**

Географические объекты: река, океан, море, залив, остров, полуостров, пролив, горная вершина.

Ответ: \_\_\_\_\_

**10. Выбери из четырёх предложенных верные высказывания и запиши в таблицу цифры, под которыми они указаны:**

- Остроги – это небольшие крепости, которые основывали отряды русских землепроходцев по берегам крупных рек.
- По мере продвижения на восток русских землепроходцев усилились разногласия между племенами, жившими в Сибири.
- Прибайкалье, Юг Западной Сибири, Алтай и Саяны, благодаря мягкому климату и плодородным землям, скоро стали житницей Сибири.
- В освоении Восточной Сибири большое экономическое значение имела добывающая отрасль, в том числе – заготовка сибирской пушнины.

Ответ:

**11. В каком веке началось присоединение Сибири к России?**

- XII
- XV
- XIII
- XVI

**12. Как ты считаешь, с какой целью, кроме экономической выгоды, осваивались сибирские земли? Аргументируй свой ответ.**

Ответ: \_\_\_\_\_

\_\_\_\_\_

\_\_\_\_\_

\_\_\_\_\_

