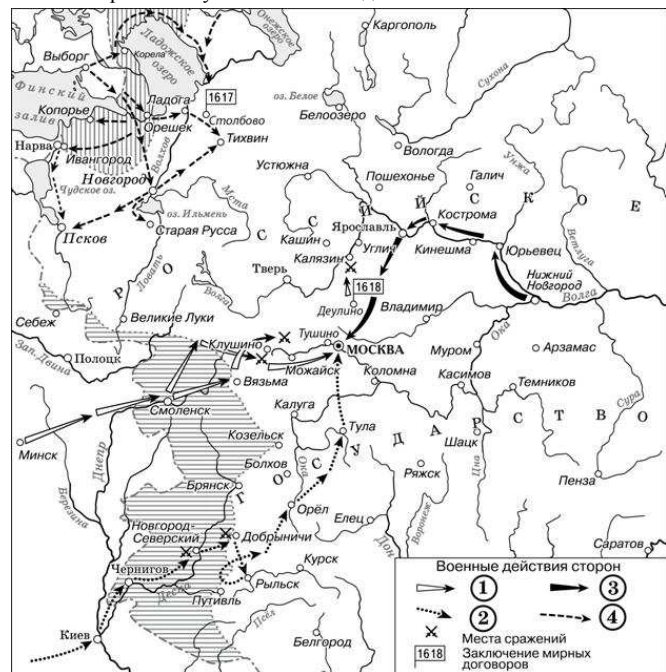


Вариант № 1
Краевая диагностическая работа
9 класс
Часть 1

Отвeтом к заданиям 1–6 является цифра или последовательность цифр.
Запишите эту цифру или последовательность в поле ответа в
тексте работы, а затем перенесите в БЛАНК ОТВЕТОВ

1. Рассмотрите схему и выполните задание:



Укажите название государства, в состав которого вошли территории, обозначенные на схеме

горизонтальной штриховкой , по одному из договоров, места подписания которых отмечены на схеме.

- 1) Россия
- 2) Османская империя
- 3) Речь Посполитая
- 4) Швеция

Ответ:

2. Расположите в хронологической последовательности исторические события. Запишите цифры, которыми обозначены исторические события, в правильной последовательности в таблицу.

- 1) Азовские походы Петра I
- 2) Семилетняя война
- 3) Ливонская война
- 4) Северная война

Ответ:

3. Что из перечисленного характеризует, восстание под предводительством Е.И. Пугачёва? Найдите в приведённом ниже списке две характеристики и запишите в таблицу цифры, под которыми они, указаны:

- 1) совместное выступление крестьян и рабочих людей.
- 2) широкое участие в движении представителей дворянства.
- 3) ограниченность территории восстания районами проживания казачества.
- 4) многонациональный состав участников восстания.
- 5) результатом стала отмена крепостного права в России.

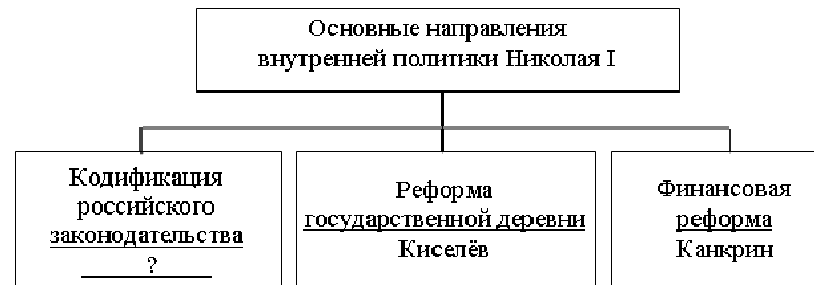
Ответ:

4. Запишите термин, о котором идёт речь.

Военное вмешательство одного или нескольких государств во внутренние, дела другой страны, нарушающее её суверенитет».

Ответ: _____

5. Запишите фамилию, пропущенную в схеме



Ответ: _____

6. Ниже приведен перечень понятий. Все они, за исключением одного, относятся к деятельности Государственной думы 1906-1917 гг. 1) курия, 2) петрашевцы, 3) трудовики, 4) Прогрессивный блок, 5) третьешюньский переворот.

Найдите и укажите порядковый номер названия (термина), «выпадающего» из данного ряда.

Ответ:

Часть II

7. Князь, участник Отечественной войны 1812 г., был одним из организаторов тайного общества. Накануне восстания на Сенатской площади был избран его руководителем (диктатором), но во время восстания на Сенатскую площадь не явился. После неудачи восстания был отправлен на каторгу, затем находился в ссылке в Сибири. После почти 30-летнего пребывания в Сибири бывший князь был восстановлен в правах дворянства, ему разрешили жить в европейской части России.

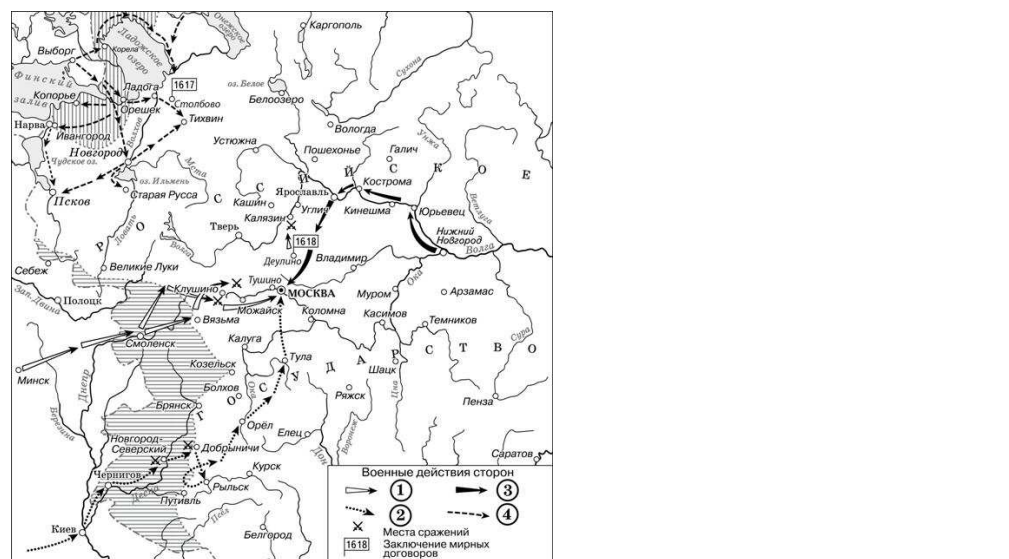
1. Назовите князя, о котором идёт речь.
2. Укажите название тайного общества, подготовившего восстание, руководителем (диктатором) которого был избран князь.
3. Назовите событие, благодаря которому бывшего князя восстановили в правах дворянства и разрешили вернуться в европейскую часть России.

Ответ:

Вариант № 2
Краевая диагностическая работа
9 класс
Часть 1

*Ответом к заданиям 1–6 является цифра или последовательность цифр.
Запишите эту цифру или последовательность в поле ответа в
тексте работы, а затем перенесите в БЛАНК ОТВЕТОВ*

1. Рассмотрите схему и выполните задание:



Укажите название государства, в состав которого вошли территории, обозначенные на схеме

вертикальной штриховкой , по одному из договоров, места подписания которых отмечены на схеме.

- 1) Россия
- 2) Пруссия
- 3) Речь Посполитая
- 4) Швеция

Ответ:

2. Расположите в хронологической последовательности исторические события. Запишите цифры, которыми обозначены исторические события, в правильной последовательности в таблицу.

- 1) восстание под предводительством И.И. Болотникова
- 2) восстание под предводительством К.А. Булавина
- 3) восстание под предводительством Т. Костюшко
- 4) восстание под предводительством С.Т. Разина

Ответ:

--	--	--	--

3. Укажите имена владимирских князей. Найдите в приведённом ниже списке два имени и запишите цифры, под которыми они указаны.

- 1) Ярослав Мудрый
- 2) Владимир Святославич
- 3) Андрей Боголюбский
- 4) Всеволод Большое Гнездо
- 5) Иван Грозный

Ответ:

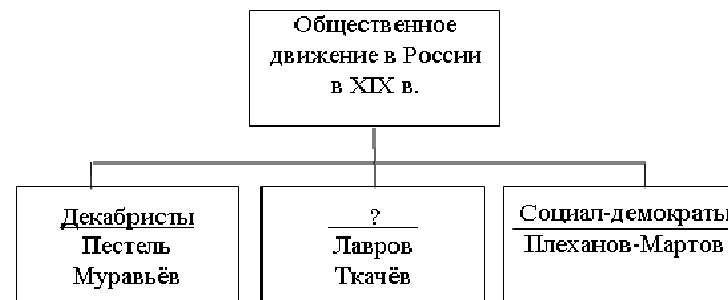
--	--

4. Запишите термин, о котором идет речь.

В истории России данный термин означает платежи, налагаемые на побежденную в войне сторону, принудительные денежные сборы с оккупированной территории. Например, по соглашению, подписанному дополнительно к Брестскому миру в 1918 году, Россия обязалась выплатить Германии 6 млрд. марок.

Ответ: _____

5. Запишите слово, пропущенное в схеме



Ответ: _____

6. Ниже приведен перечень терминов. Все они, за исключением одного, обозначают классы в Российской империи.

1) крестьяне, 2) дворяне, 3) буржуазия, 4) рабочие, 5) пролетариат.

Найдите и запишите порядковый номер термина, «выпадающего» из данного ряда.

Ответ:

Часть II

7. Служащий Петербургской таможни за то, что написал книгу, по указанию Екатерины II, назвавшей его «бунтовщиком, хуже Пугачёва», был заключён в Петропавловскую крепость. Он сам считал, что если бы издал книгу лет десять назад, то Екатерина II его бы наградила как автора – разоблачителя российских пороков. Но после события в Европе императрица изменилась... Автор книги был отправлен в ссылку в Сибирь, где пробыл около 6 лет до смерти Екатерины II.

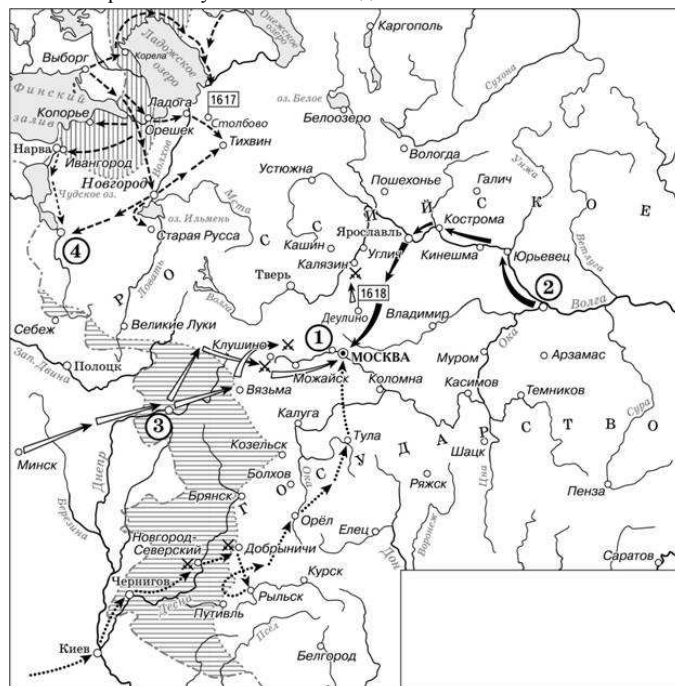
1. Назовите писателя, о котором идёт речь.
2. Как называлась упомянутая книга?
3. О каком событии в Европе идёт речь?

Ответ:

Вариант № 3
Краевая диагностическая работа
9 класс
Часть 1

*Отвeтoм к зaдaниям 1–6 являeтcя цифрa или пoслeдoвaтeльнoсть цифр.
Зaпишитe этy цифрy или пoслeдoвaтeльнoсть в пoлe oтвeтa в
тeкстe рaбoты, a зaтeм пeрeнecитe в БЛАНК OТВЕТОВ*

1. Рассмотрите схему и выполните задание:



Какой цифрой на схеме обозначен город, в котором началось формирование ополчения во главе с Козьмой Мининым и Дмитрием Пожарским?

- 1) 1
- 2) 2
- 3) 3
- 4) 4

Ответ:

2. Расположите в хронологической последовательности следующие имена. Запишите цифры, которыми обозначены имена, в правильной последовательности в таблицу.

- 1) Василий II Темный
- 2) Андрей Боголюбский
- 3) Иван III
- 4) Дмитрий Донской

Ответ:

3. Что из перечисленного относится к историческому развитию России в XX в.? Найдите в приведенном ниже списке два ответа и запишите в таблицу цифры, под которыми они указаны.

- 1) открытие первой железной дороги
- 2) создание первых колхозов
- 3) свержение монархии
- 4) появление первых мануфактур

Ответ:

18.

4. Запишите термин, о котором идет речь.

С конца XIX в. в Российской империи получает широкое распространение явление, когда лицо на добровольной и безвозмездной основе способствует развитию науки и искусства, оказывая материальную помощь из личных средств, участвуя в организации культурных событий, музеев, картинных галерей и библиотек.

Ответ: _____

5. Запишите слово, пропущенное в



схеме

Ответ: _____

6. Ниже приведен перечень терминов. Все они, за исключением одного, обозначают органы высшей государственной власти Российской империи в XIX — начале XX в.

- 1) Правительствующий Сенат, 2) Совет министров, 3) Верховный Совет, 4) Государственный совет, 5) Комитет министров.

Найдите и запишите порядковый номер термина, «выпадающего» из данного ряда.

Ответ:

Часть II

7. Российский революционер вошёл в исполнительный комитет революционной террористической народнической организации, готовившей убийство императора, и участвовал в подготовке покушений. За месяц до убийства императора он был арестован полицией. Был приговорён к пожизненному заключению, но, отсидев в тюрьме почти 25 лет, в связи с политическими событиями в России был освобождён.

1. Укажите название революционной организации, членом исполнительного комитета которой был революционер.
2. Назовите императора, о котором идёт речь.
3. Какое событие позволило революционеру выйти на свободу?

Ответ:

Вариант № 4
Краевая диагностическая работа
9 класс
Часть 1

Отвeтом к заданиям 1–6 является цифра или последовательность цифр.
Запишите эту цифру или последовательность в поле ответа в
тексте работы, а затем перенесите в БЛАНК ОТВЕТОВ

1. Рассмотрите схему и выполните задание



Укажите период времени, когда произошло восстание, к которому относятся события, обозначенные на схеме стрелками.

- 1) начало XVII в.
- 2) вторая половина XVII в.
- 3) начало XVIII в.
- 4) вторая половина XVIII в.

Ответ:

2. Расположите следующие внешнеполитические события древнерусской истории в хронологическом порядке. Запишите цифры, которыми обозначены внешнеполитические события в правильной последовательности в таблицу.

- 1) заключение первого русско-византийского договора
- 2) организация походов против половцев
- 3) разгром Хазарского каганата
- 4) окончательный разгром печенегов

Ответ:

3. Какие события относятся: ко времени правления Алексея Михайловича Романова? Найдите в приведённом ниже списке два события и запишите в таблицу цифры, под которыми они указаны.

- 1) принятие Соборного уложения
- 2) учреждение опричины
- 3) введение «заповедных лет»
- 4) введение «уроков» и «погостов»
- 5) воссоединение Украины с Россией

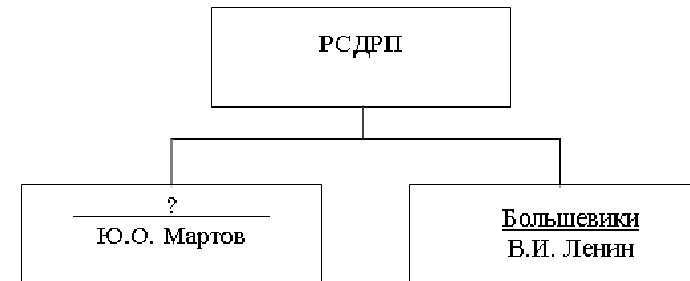
Ответ:

4. Запишите термин, о котором идет речь.

В XVII-XIX вв. существовала категория населения — «люди разного чина и званий», выходцы из духовенства, мещанства, купечества, дети личных дворян, получившие образование и порвавшие со своей прежней социальной средой.

Ответ: _____

5. Запишите слово, пропущенное в схеме



Ответ: _____

6. Ниже приведён перечень терминов. Все они, за исключением, одного, обозначают реформы, проведённые в эпоху императора Александра II.

1) судебная; 2) военная; 3) губернская; 4) городская; 5) земская.

Найдите и укажите порядковый номер названия (термина), «выпадающего» из данного ряда.

Ответ:

Часть II

7. Простой мещанин – житель Нижнего Новгорода – услышал, что в городе распространялось воззвание о сборе средств для вооружения рати, которая должна была двинуться на Москву и освободить от иноземцев в Кремле. Он знал, что такая рать уже набиралась в южных землях, она дошла до Москвы и вступила в бои за город, но освободить его не смогла. И теперь для освобождения столицы собиралось новое войско. В результате его успешных действий Москва была освобождена от интервентов.

1. Укажите год, когда произошли данные события.
2. Кто возглавил войско, выдвинувшееся на освобождение Москвы (назовите двух руководителей)
3. Почему вторая попытка освободить Москву в отличие от первой оказалась успешной?

Укажите одну причину.

Ответ: